


Η σωστή επανάληψη με τον καθηγητή στην οθόνη σου. To School Doctor σε προετοιμάζει δίνοντας σου τα SOS!

Τύπωσε και λύσε την άσκηση ακριβώς όπως την λύνει ο καθηγητής μας στο διπλανό βίντεο. Φωτογράφησε και στείλε μας την λύση στο info@schooldoctor.gr . Σύντομα ένας καθηγητής μας θα επικοινωνήσει μαζί σου και θα διορθώσει μαζί σου τυχόν λάθη.

	Στατικός ηλεκτρισμός : ΣΥΝΔΕΣΗ ΑΝΤΙΣΤΑΣΕΩΝ
	ΟΝΟΜΑΤΕΠΩΝΥΜΟ ΜΑΘΗΤΗ:
	ΤΗΛΕΦΩΝΟ ΕΠΙΚΟΙΝΩΝΙΑΣ:
	EMAIL:
	Facebook:

Στο SCHOOLDOCTOR πιστεύουμε ότι αν προσπαθήσεις να λύσεις και να κατανοήσεις σωστά όλα τα θέματα που παρουσιάζουμε με τον ίδιο τρόπο, δεν έχεις να φοβηθείς τίποτα στις εξετάσεις. Για οποιαδήποτε απορία επικοινωνήσε μαζί μας στο 211-8008289

ΘΕΜΑ 1ο

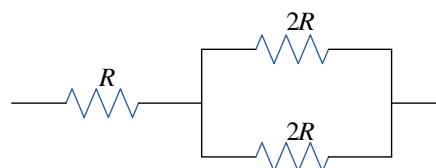
1. Η ολική αντίσταση της συνδεσμολογίας του σχήματος είναι ίση με:

α. $3R/2$

β. $3R/4$

γ. $2R$

δ. $2R/3$



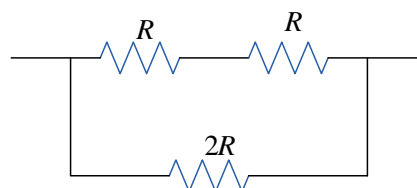
2. Η ολική αντίσταση της συνδεσμολογίας του σχήματος είναι ίση με:

α. $3R/2$

β. $3R/4$

γ. R

δ. $2R/3$





3. Τέσσερις αντιστάτες έχουν ο καθένας την ίδια αντίσταση R και συνδέονται μεταξύ τους έτσι ώστε να έχουν ισοδύναμη αντίσταση ίση με $2R$. Η συνδεσμολογία τους είναι:

